

فصل میوه چینی

کتاب کار تابستان

دوم ابتدایی

شامل: فارسی، ریاضی، دینی، علوم، آزمون های چهار جوابی و ...

تألیف: معصومه نجیب



ستارگان

بچه

بخوان



مورد تایید

دفتر انتشارات کمک آموزشی

سازمان پژوهش و برنامه ریزی آموزشی

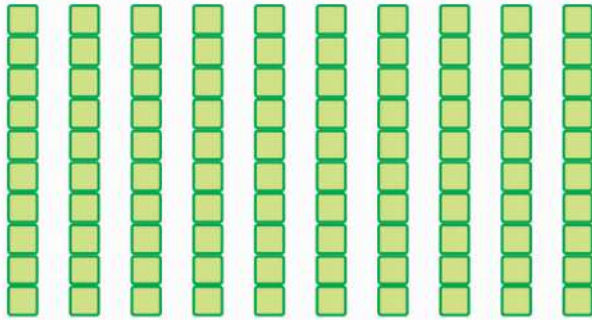
وزارت محترم آموزش و پرورش

ویژه تابستان کلاس دومی ها و مورد استفاده ی دانش آموزان ورودی پایه سوم




عددهای سه رقمی

لحظه‌هایت همیشه شاد و خرم باشد




ده تایی	یکی
۱۰	۰
۱۰۰	

۱۰ تا ده تایی می شود ۱۰۰ تا




دانش آموز عزیز مربع مقابل از ۱۰۰ مربع کوچک ساخته شده است.
بنابراین یک خانه صدتایی می شود ۱۰۰ تا


حالا پاسخ بده.




۲ صدتایی می شود ۲۰۰ تا




۳ صدتایی می شود.....تا




۵ صدتایی می شود.....تا




۶ صدتایی می شود.....تا



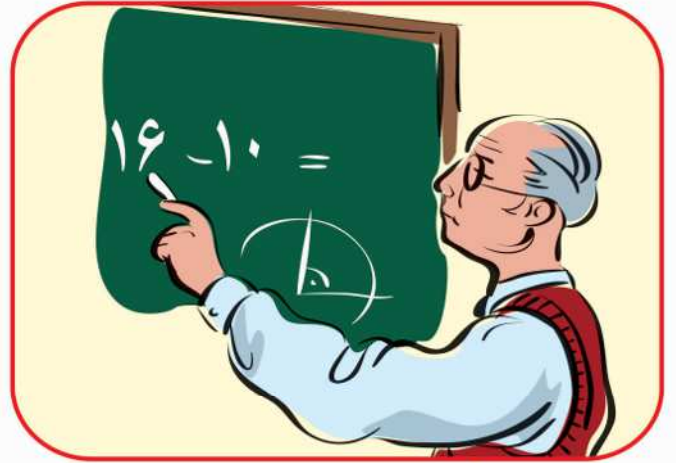
۷ صدتایی می شود.....تا

هر تصویر را با دقت ببین و مانند نمونه عمل کن . 




نام شغل:

چه کار می کند؟



نام شغل: معلم

چه کار می کند؟ درس می دهد



نام شغل:

چه کار می کند؟



نام شغل:

چه کار می کند؟



نام شغل:

چه کار می کند؟



نام شغل:

چه کار می کند؟

سلام به تو دانش آموز کوشا

برای هر یک از حرف های جدول مانند نمونه چند کلمه بساز.



غ	غ	غ	غ
زاغ	تیغ	پیغبر	غُصّه
_____	_____	_____	_____
_____	_____	_____	_____
_____	_____	_____	_____
_____	_____	_____	_____

ق	ق
قرض	صندوق
_____	_____
_____	_____
_____	_____
_____	_____

مانند نمونه با گذاشتن حرف (ق ق) یا (غ غ غ غ) کلمه های زیر را کامل کن.



صدیقه	غذا	م... رب	چ... ندر	چلچرا...
ع... ل	... مگین	مو... مع	... صه	... رآن
مرا... بت	... وربا... ه	با... بان	سنا... ک	چی...
ل... مه	اتفا...	د... یقه	مساب... ه	آ... ساز
... الی بانی	ج... د	... دیم	با... چه	... الب
... وری	... افل	... اضی	... وی	... ادر
م... ر	... سناری	دا...	... زال	... از



دانش آموز عزیز تابستان خوش

مانند نمونه علامت تشدید (ّ) در جای مناسب هر کلمه بگذار واز هر کدام یکبار بنویس.



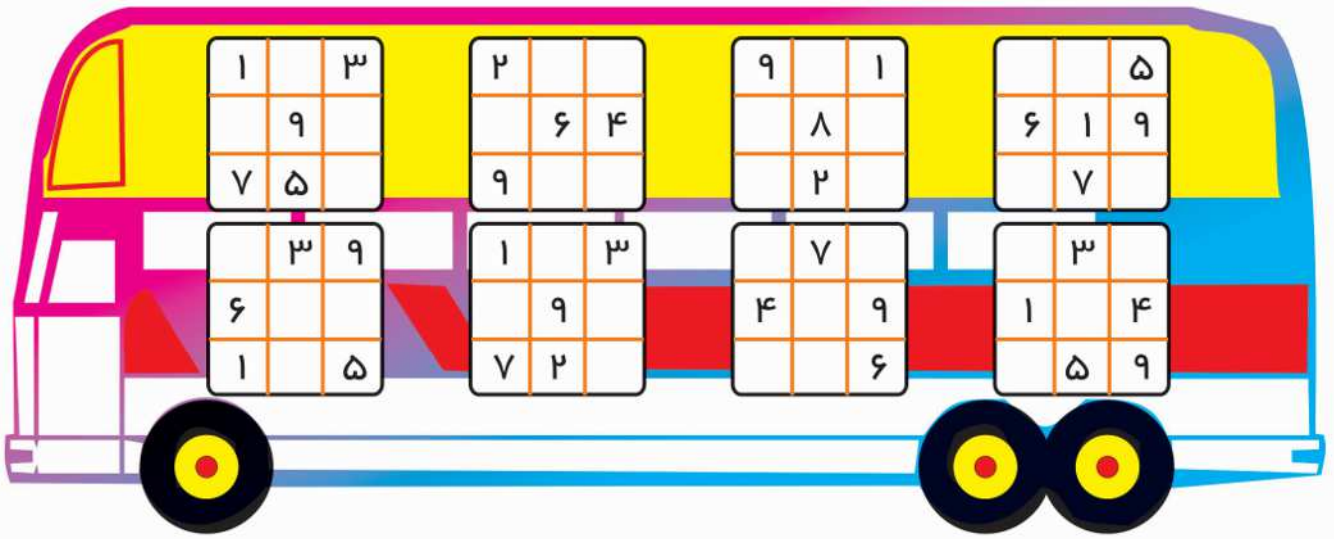
بزاز	تشکر	دقت	دره	بچه
نجار	اتفاق	بره	اول	مدت
خیاط	معلم	قنادی	قناد	کفاش
توجه	قصه	محبت	قله	غصه
شب چله	زرافه	حتی	مرتب	نقاش

لبخند



کمک خلبان: نگاه کن آدما از این بالا مثل مورچه دیده می شوند.
خلبان: عزیزم چیزی که تومی بینی، همون مورچه است.
چون ما هنوز پرواز نکردیم!

با استفاده از حدس و آزمایش جدول زیر را حل کن.



در جاهای خالی عدد مناسب بگذار



$$50 + \square = 63$$

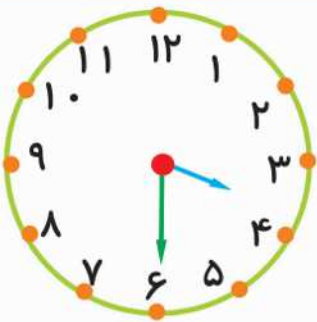
$$70 - \square = 40$$

$$20 + \square = 36$$

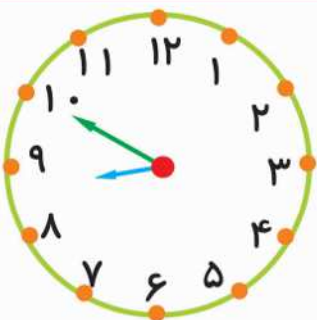
$$90 - \square = 50$$

$$60 + \square = 85$$

$$45 - \square = 25$$



عقربه ی بزرگ ساعت چند دقیقه باید حرکت کند تا ساعت ۵:۳۰ شود؟
مقدار حرکت عقربه بزرگ را با رنگ کردن نشان بده.




عقربه ی بزرگ چند دقیقه باید حرکت کند تا ساعت ۹ شود؟
مقدار حرکت را با رنگ کردن نشان بده



سلام دوست عزیز آن چه در این صفحه می بینی ماده است.

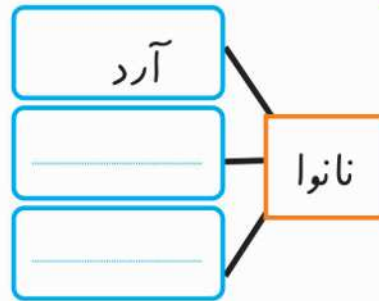
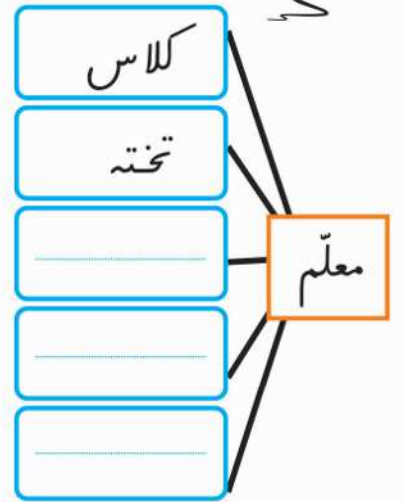
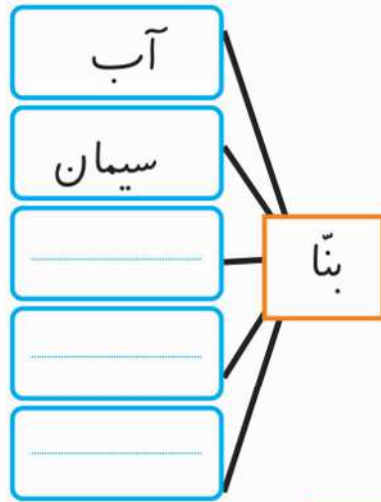
پس به بیشتر چیزهایی که در اطراف ما وجود دارد ماده می گویند.



لطفاً پاسخ بده.

ماده چیست؟ و چند نمونه نام ببر.

کامل کن.



جاهای خالی را پر کن



* به محلّ فرود هواپیما می گویند.

* به محلّ نمایش می گویند.

* به محلّ پرورش کودکان بی سرپرست می گویند.

* به محلّ خواب می گویند.

* به محلّ درمان می گویند.

* به محلّ گردش می گویند.

* به محلّ کار می گویند.

* به محلّ ورزش می گویند.


* به محلّ پناه می گویند.



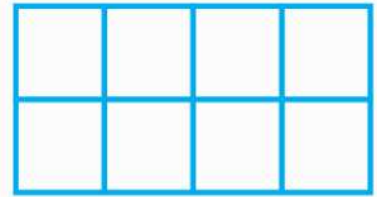
مانند نمونه از شکل ها رنگ کن.



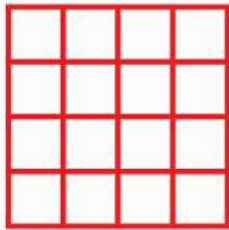
۳ قسمت از ۴ قسمت مساوی



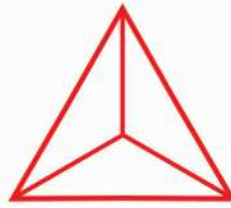
۴ قسمت از ۷ قسمت مساوی



۵ قسمت از ۸ قسمت مساوی



۸ قسمت از ۱۶ قسمت مساوی




۱ قسمت از ۳ قسمت مساوی

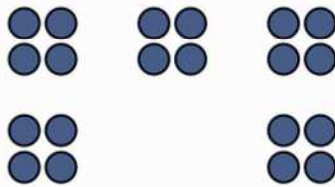


۲ قسمت از ۵ قسمت مساوی

مانند نمونه کامل کن.



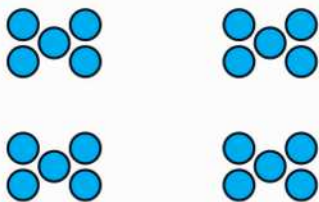
۳ دسته ی ۵ تایی



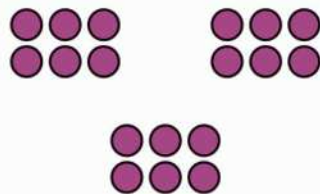
..... دسته ی تایی




..... دسته ی تایی



..... دسته ی تایی



..... دسته ی تایی



..... دسته ی تایی



هم شاگردی سلام.

اسم من کوشا است.

امیدوارم سال تحصیلی را با موفقیت گذرانده باشی.

بهار با همه ی زیبایی هایش آمده است.

سال تحصیلی دوم با همه ی قشنگی هایش روبه

پایان است.

تابستان پر میوه هم کم کم از راه می رسد

راستی چه برنامه ای برای

تابستان داری؟ آفرین چه خوب!

می خواهی کتاب های علمی و آموزنده

بخوانی. من هم چنین تصمیمی دارم.

البته کتاب **فصل میوه چینی** را هم خیلی دوست دارم.

چون با خواندن و انجام تکالیف آن خود را برای سال سوم آماده می کنم.

دوست داری با هم به سراغ این کتاب برویم.

آفرین خیلی عالی است.

پس با هم شروع می کنیم. **یک**، **دو**، **سه**

شب و روزت خوش

اگر گفتی: الفبای فارسی چند حرف دارد؟ آفرین.
آفرین حالا به ترتیب، حروفی را که جا افتاده در جاهای خالی بنویس.

ح							ا
	س		ز			د	
					ط		
ی				م			

دانش آموز عزیز باتوجه به حروفی را که در بالا نوشتی پاسخ سئوالات زیر را بنویس.

حروف بی نقطه چند تاست؟ لطفاً بنویس

حروف یک نقطه چند تاست؟ بنویس

حروف یک شکلی چند تاست؟ بنویس

حروف دو شکلی چند تاست؟ بنویس

حروف چهار شکلی چند تاست؟ بنویس

حروف سه نقطه چند تاست؟ بنویس

موفقیت شما در سایه تلاش، کوشش، پشتکار و دقت شماست.





هر دو کلمه‌ای را که نشانه‌ی آخر آن‌ها مثل هم است پیدا کن و کنار هم بنویس.



آمده‌ای- غواص- پرویز- طاقچه- ماه- زانو- مخصوص- با سلیقه‌ای
دو- کوه- شروع- شامپو- پرستو- مزرعه- پاییز- موضوع

.....
.....

دسته بندی کن. آب پرتقال- جوراب- شیرموز- گت- پیراهن- دوغ



..... پوشیدنی‌ها
..... نوشیدنی‌ها

کلمه‌ها را با توجه به حرف اول آن‌ها در جدول بنویس.



صدف- ضعیف- جغد- خواهر- عینک- ضایع- غصه- غم- عسل- جمله- خمیر- صبحانه

ص	ع	ج	خ	ض	غ
.....

سلام و صد سلام به تو دانش آموز پرتوان .

برای هریک از حرف های جدول مانند نمونه چند کلمه بساز.



ض	ض	ظ	ذ	ز
مريض	وضو	ظلم	ذره بین	سپاس گزار
.....
.....
.....

دانش آموز عزیز کلمه های زیر را با یکی از چهار حرف (ز)، (ذ)، (ظ) و (ض) کامل کن.



جای...ه	...ره بین	...لم	و...و	ل...ت	موا...ب
ه...م	غ...ا	ر...ت	ا...ا	نیا...ا	ن...گ
ع...ر خواهی	ل...ت	نا...م	ل...ه	ر...ب	
نوا...ش	...حمت	...خیم	ر...ف	ک...م	ح...ر ت
خوش م...ه	م...ر	گ...اشت	ا...هر	ر...ف	
س...ر	م...لوم	ن...دگی	م...ر ت	ن...ر	ب...ی



مانند نمونه کلمه ها را دسته بندی کن.



خواهش - خاموش - استخوان - ورزش - باسواد - خواهر - خاریشت

رسول - خاکستر - پرستو - دستور - مورچه - خواب - برخاست - جواد - پروانه

پروانه	خاکستر	خواب	مورچه

به جای کلمه ی داخل کمانک، کلمه ی مناسب دیگری بنویس و جمله را دوباره بنویس.



* خداوند (یاریم) کن تا همیشه موفق باشیم. ←

* علی بسیار (بانظم) است. ←

* وقتی مادرم خواب است (آهسته) حرف می زنم. ←

هر کلمه را در جای خودش قرار بده.

(دُمش - برخاستند - درسخوان - تشکر - احترام - خطرناک)



* ما باید به پدر و مادر خود بگذاریم.

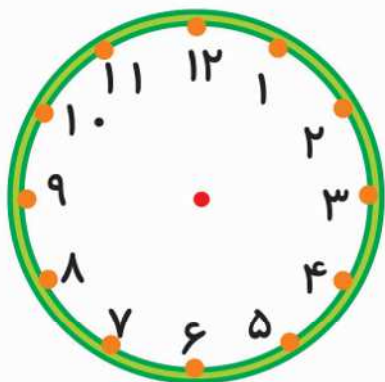
* وقتی به یک سگ غذای دهیم او با تکان دادن از ما می کند.

* علی پسری بسیار با انضباط و است.

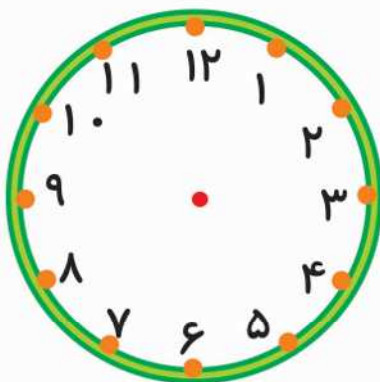
* وقتی معلم وارد کلاس شد بچه ها با احترام از جا

* یک بچه ی خوب هرگز به چیزهای دست نمی زند.

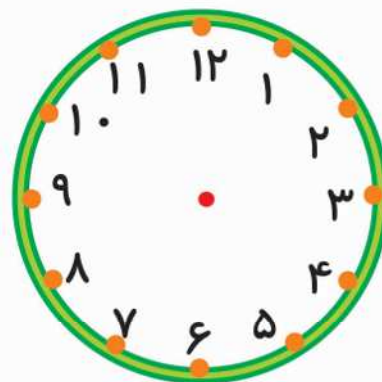
۷- عقربه های هر ساعت را با توجه به زمان هر ساعت رسم کن.



ساعت ۹ است



ساعت ۱۲ است



ساعت ۳ است

۸- با رقم های ۹، ۰، ۵ هر چند تا که می توانی عدد دو رقمی بنویس.

.....

۹- آیین ۵ دسته ده تایی و ۲ دسته ی ده تایی دیگر مداد دارد ۸ تا یکی مداد هم مادرش به او داد.

یکان	دهگان
.....

با استفاده از جدول حساب کن آیین چند مداد دارد؟

۱۰- با استفاده از محور حاصل عبارت زیر را پیدا کن.



$$16 - 9 + 7 = \dots$$

پیروز و سربلند باشی



با کلمه های زیر جمله ها را کامل کن.

درختان - تفریحی - لذت - خوشحال - دلپذیر - درس خوان - مرتب

- * هوای روستا بسیار است.
 - * یک دانش آموز خوب باید باشد.
 - * در تابستان از خوردن بستنی می بریم.
 - * دانش آموزان همراه معلم خود به یک اردوی رفتند.
 - * امروز طوفان شدیدی آمد و را انداخت.
 - * من پدر و مادرم را خیلی دوست دارم و همیشه از دیدن آن ها می شوم.
- مانند نمونه کلمه های زیر را با توجه به نشانه ی آخرشان دسته بندی کن.

ماه - بچه - سایه - فرزانه - کوه - همراه - ناله - روده - پارچه - آه
مه - دانه - پروانه - روباه - گاه - سیاه

نشانه ی (هـ)



ماه

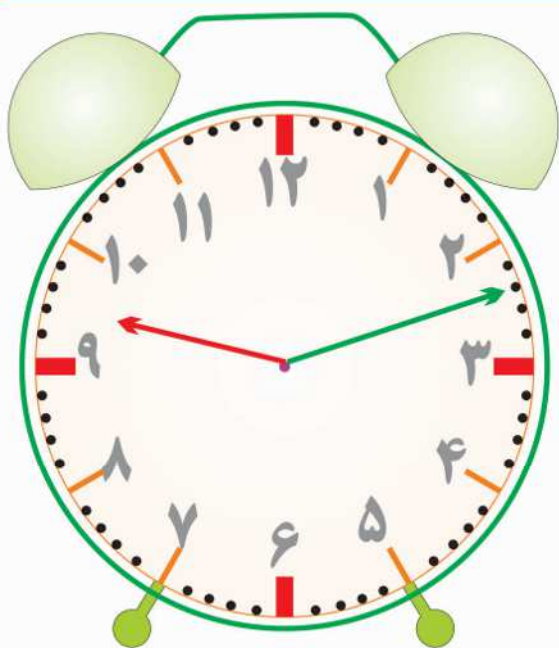
.....
.....
.....
.....
.....
.....
.....

نشانه ی (اِ)

بچه

.....
.....
.....
.....
.....
.....
.....



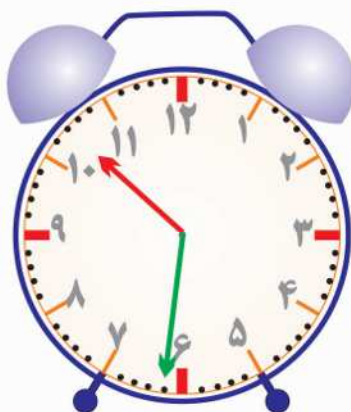


دانش آموز عزیز با توجه به این که هر قسمت کوچک ساعت **یک** دقیقه است. این ساعت **۱۲** دقیقه جلو رفته است. پس می توانیم بگوییم ساعت **۹** و **۱۲** دقیقه است.

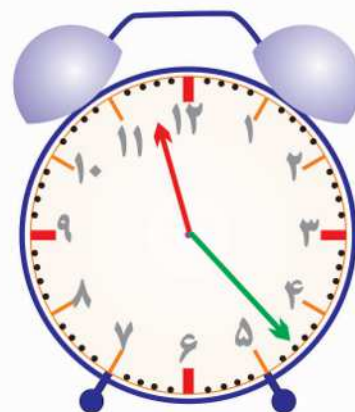
زیر هر ساعت بنویس ساعت چند است؟ 



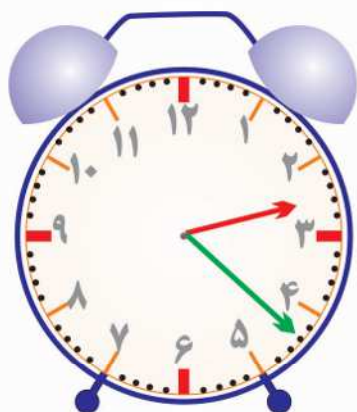
ساعت و دقیقه است



ساعت و دقیقه است



ساعت و دقیقه است



ساعت و دقیقه است



ساعت و دقیقه است



ساعت و دقیقه است

