

فصل میوه چینی

کتاب کار تابستان

سوم ابتدایی

شامل: فارسی، ریاضی، علوم، اجتماعی، هدیه های آسمان و آزمون های چهار جوابی و ...

تألیف: معصومه نجیب

مورد نایید

دفتر انتشارات کمک آموزشی

سازمان پژوهش و برنامه ریزی آموزشی

وزارت محترم آموزش و پرورش

مورد استفاده ی دانش آموزان ورودی پایه ی چهارم

دانش آموز عزیز به تصویرهای زیر با دقت نگاه کن و تفاوت آنها را در یک جمله بنویس.



.....

دانش آموز عزیز تصویرهای زیر، مربوط به کدام شهر ایران است؟

چه معدنی در این شهر وجود دارد؟



حضرت علی می فرماید:
بزرگ ترین کارها با کوچک ترین کام ها آغاز می شود.




اندازه‌ی روی سطح این میز، **مساحت** این میز می‌شود.

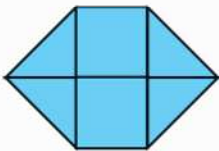


اندازه‌ی روی سطح این کتاب، **مساحت** این کتاب می‌شود.

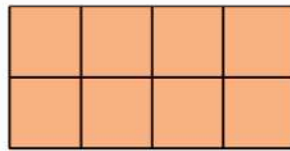
🌸 اندازه‌ی روی سطح کدام یک از اجسام بالا بیش‌تر است؟ کتاب یا میز؟

به اندازه‌ی سطح هر شکل، **مساحت** می‌گویند.

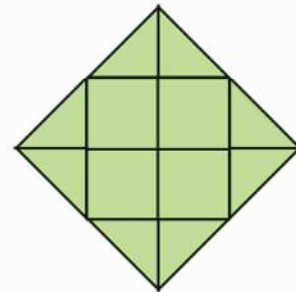
✏️ مساحت هر یک از این مربع‌ها  در شکل‌های زیر، یک سانتی‌متر مربع است. حالا مساحت هر شکل را حساب کن.



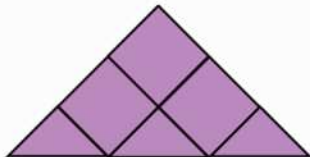
مساحت ۶ ضلعی : ۴. بیاییم متر. مربع.



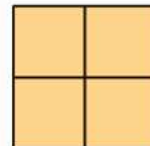
..... مساحت مستطیل :



..... مساحت لوزی :



..... مساحت مثلث :



..... مساحت مربع :

تصویرهایی به شکل **مکعب**، **مخروط**، **استوانه** و **مکعب مستطیل** در قسمت پایین قرار دارد. با توجه به تعداد شکل‌ها، جدول را کامل کن.



شکل	مکعب	مکعب مستطیل	مخروط	استوانه
تعداد



- 🌸 چه کسری از شکل‌ها، مکعب هستند؟
- 🌸 چه کسری از شکل‌ها، استوانه هستند؟
- 🌸 چه کسری از شکل‌ها، مخروط هستند؟
- 🌸 چه کسری از شکل‌ها، مکعب مستطیل هستند؟

دانش‌آموز عزیز، هر یک از جمله‌های سمت راست را به یکی از حالت‌های سمت چپ وصل کن.

به طور حتم اتفاق نمی‌افتد.

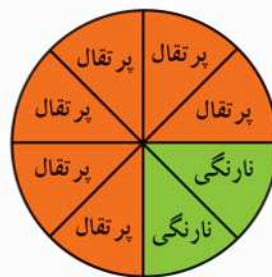
به طور حتم اتفاق می‌افتد.

احتمال دارد اتفاق بیفتد.

برف کوه‌ها پس از ذوب شدن، سرازیر می‌شوند.

در بهار برف می‌آید.

دندان‌های دائم (همیشگی) در یک سالگی درمی‌آیند.

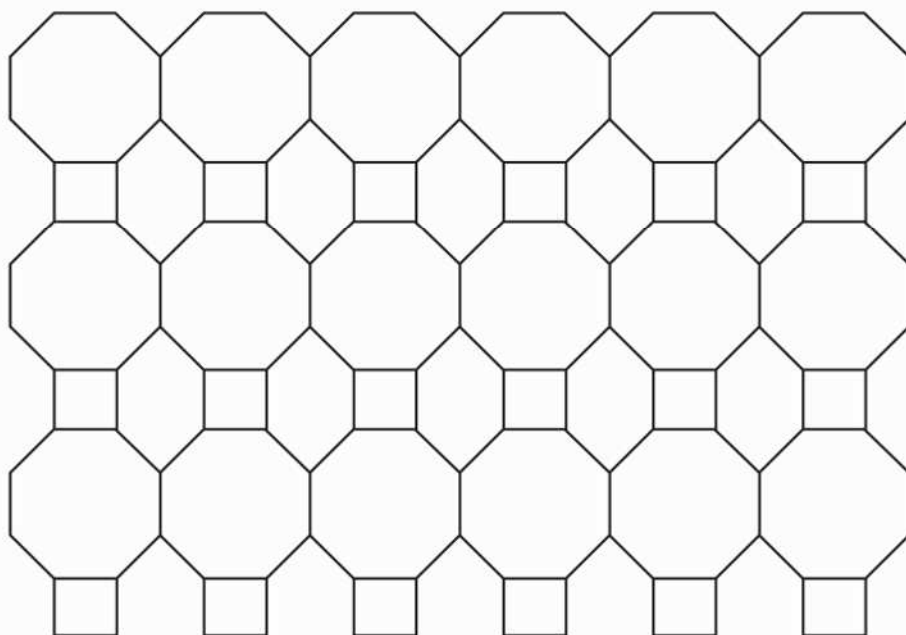


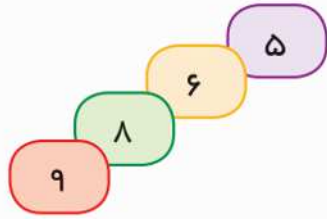
باغی ۸۰ درخت نارنگی و پرتقال دارد.

نمودار دایره‌ای بالا، تعداد درخت‌های نارنگی و پرتقال

این باغ را نشان می‌دهد. چند تا درخت پرتقال و چند تا درخت نارنگی در این باغ وجود دارد؟

دانش آموز عزیز شکل زیر را به صورت متقارن رنگ آمیزی کن.





۱- دانش آموز عزیز با چهار کارت مقابل، هر قدر که می توانی، عدد چهاررقمی بساز. سپس عددهای فرد و زوج را مشخص کن.

۲- کوچک ترین عدد چهار رقمی را بنویس. ←

۳- بزرگ ترین عدد چهاررقمی را بنویس. ←

۴- با کوچک ترین و بزرگ ترین عدد چهاررقمی یک نامساوی بساز. ←

۵- کوچک ترین عدد زوج چهاررقمی را بدون تکرار رقمها بنویس. ←

۶- کوچک ترین عدد چهاررقمی فرد را بنویس. ←



۷- بین اعداد زیر علامت (< یا = یا >) بگذار.

$$1000 - 1 \quad \square \quad 9999$$

$$700 + 300 \quad \square \quad 1000$$

$$9999 \quad \square \quad 9000$$

$$1234 \quad \square \quad 1023$$

$$1000 \quad \square \quad 9999$$

$$1000 \quad \square \quad 999 + 1$$

$$9999 \quad \square \quad 9999 + 1$$

$$4970 \quad \square \quad 4099$$

دانش آموز عزیز برای هر یک از شکل های زیر یک ضرب بنویس.



$$1 \times 2 = 2$$




$$1 \times 0 = 0$$



.....



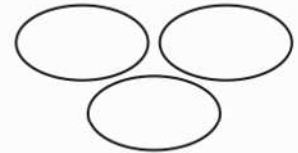
.....



.....



.....



.....

حاصل ضرب هر عدد در صفر برابر است با صفر و یا حاصل ضرب صفر در هر عدد برابر است با صفر

حاصل ضرب های زیر را به دست بیاور.

$$4 \times 0 = \dots\dots\dots$$

$$62 \times 0 = \dots\dots\dots$$

$$0 \times 97 = \dots\dots\dots$$

$$52 \times 0 = \dots\dots\dots$$

حاصل ضرب های زیر را مانند نمونه به دست بیاور.

$$1 \times 100 = 100$$

$$8 \times 1 = 8$$

$$6 \times 1 = \dots\dots\dots$$

$$9 \times 1 = \dots\dots\dots$$

$$100 \times 1 = \dots\dots\dots$$

$$99 \times 1 = \dots\dots\dots$$

$$1 \times 25 = \dots\dots\dots$$

$$1 \times 68 = \dots\dots\dots$$


$$59 \times 1 = \dots\dots\dots$$

$$70 \times 1 = \dots\dots\dots$$


$$1 \times 44 = \dots\dots\dots$$

$$1 \times 600 = \dots\dots\dots$$

حاصل ضرب هر عدد در یک برابر است با همان عدد

به جمله‌های زیر دقت کن و بنویس هر یک از چند کلمه تشکیل شده است؟ 


- | | | | |
|-------------------|-----------------------|-------------------|----------|
| ← چند کلمه؟ | ما آمدیم. | ← چند کلمه؟ | آمد. |
| ← چند کلمه؟ | علی به دبستان می‌رود. | ← چند کلمه؟ | رفت. |
| ← چند کلمه؟ | مریم از مدرسه آمد. | ← چند کلمه؟ | آمدم. |
| ← چند کلمه؟ | آمدند. | ← چند کلمه؟ | او آمد. |
| ← چند کلمه؟ | رفتند. | ← چند کلمه؟ | خوردم. |
| ← چند کلمه؟ | خوردند. | ← چند کلمه؟ | آب خورد. |

دانش آموز عزیز تفاوت جمله‌های کوتاه و بلند در چیست؟ 

.....


.....

به جمله‌های زیر توجه کن و سپس در جاهای خالی، مانند نمونه، کلمه‌ی مناسب بنویس. 



- ۱- من دست دارم؛ اما چاقو ... دسته ... دارد.
- ۲- من دندان دارم؛ اما شانه دارد.
- ۳- پرنده چشم دارد؛ اما کوه دارد.
- ۴- موش گوش دارد؛ اما مربع دارد.
- ۵- مرغ پا دارد؛ اما میز دارد.
- ۶- من دهان دارم؛ اما غار دارد.
- ۱- من دماغ دارم؛ اما هواپیما دارد.
- ۱- من زبان دارم؛ اما آتش دارد.



دانش آموز عزیز در هر قسمت، معنی واژه‌های زیر را بنویس. 

..... گلستان یعنی :

..... نخلستان یعنی :

..... کوهستان یعنی :

..... بیمارستان یعنی :

..... هنرستان یعنی :


..... گلزار یعنی :

..... شالیزار یعنی :

..... نمکزار یعنی :

..... چمنزار یعنی :

..... شنزار یعنی :

مانند نمونه شکل دیگر کلمه‌های زیر را بنویس. 

..... مزن : ..نزن .. مگو : .. مکن : .. میازار : .. مخور : .. مرو :

از خدا جویم توفیق ادب بی ادب محروم ماند از لطف رب

« مولوی »

آزمون هدیه‌های آسمان (شماره ۵)

دانش‌آموز عزیز پاسخ صحیح را با علامت مشخص کن.

۱- نام کتاب آسمانی ما مسلمانان چیست؟

- الف) نهج البلاغه ب) صحیفه‌ی سجّادیه ج) قرآن د) تورات

۲- امام جعفر صادق (ع) فرزند که بود و در کجا زندگی می‌کرد؟

- الف) فرزند امام محمدباقر (ع)، در مدینه
 ب) فرزند امام رضا (ع)، در مکه
 ج) فرزند امام سجّاد (ع)، در مدینه
 د) فرزند امام حسین (ع)، در کربلا

۳- چرا امام پنجم را «باقرالعلوم» می‌نامیدند؟

- الف) چون بسیار مهربان و عادل بود
 ب) چون بسیار عالم و دانشمند بود
 ج) چون شاگردان را تربیت می‌کرد
 د) چون بسیار خوش اخلاق بود

۴- نام مادر حضرت محمد (ص) چه بود؟

- الف) حلیمه ب) آمنه ج) مریم د) آسیه

۵- نام دایه‌ی حضرت محمد (ص) چه بود؟

- الف) خدیجه ب) آمنه ج) حلیمه د) زینب

۶- کتابی که دعاهای امام سجّاد (ع) در آن جمع‌آوری شده است، چه نام دارد؟

- الف) صحیفه‌ی سجّادیه ب) نهج البلاغه ج) قرآن د) انجیل

۷- امام محمدباقر فرزند کدام امام ما مسلمانان است؟

- الف) امام سجّاد (ع) ب) امام علی (ع) ج) امام حسین (ع) د) امام حسن (ع)

۸- امام جعفر صادق (ع) چندمین امام ما مسلمانان است؟

- الف) اولین امام ب) ششمین امام ج) سومین امام د) پنجمین امام

پیروز باشی



نام خانوادگی: نام پدر: نام:

محل تولد: روز تولد: ماه تولد: سال تولد:

شماره تلفن: نام دبستان: شماره تلفن دبستان:

نشانی محل زندگی

نام استان: نام شهر:

سوغات شهری که در آن زندگی می‌کنی، چیست؟

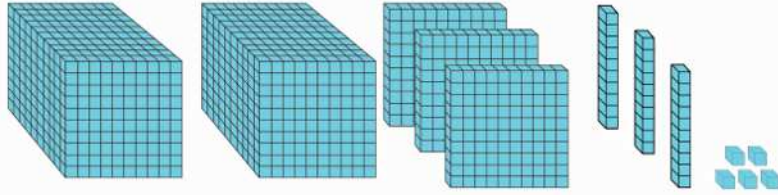
مکان‌های دیدنی شهری که در آن زندگی می‌کنی، کجاست؟

نام بناهای تاریخی شهرت چیست؟

خدا یا چنان کن سرانجام کار
تو خوشود باشی و مار سگار



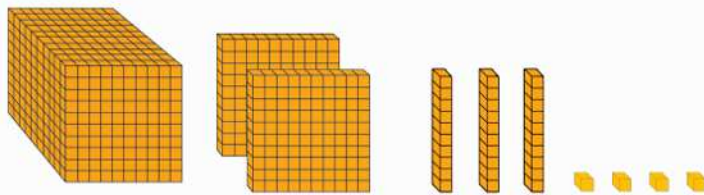
دانش آموز عزیز مانند نمونه، با این دسته‌ها یک عدد بساز.



هزارگان	صدگان	دهگان	یکان
۲	۳	۳	۵

حروف : دو هزار و سیصد و سی و پنج

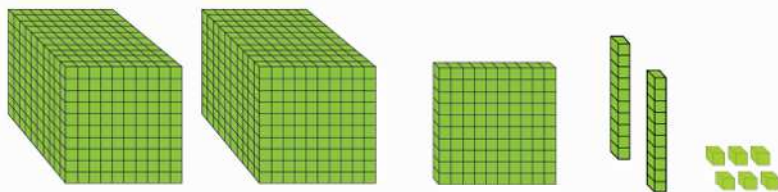
عدد : ۲۳۳۵



هزارگان	صدگان	دهگان	یکان

حروف :

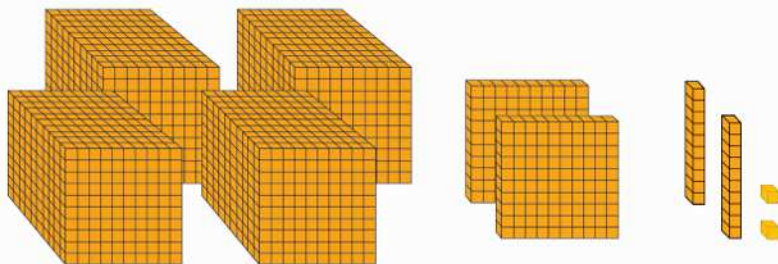
عدد :



هزارگان	صدگان	دهگان	یکان

حروف :

عدد :



هزارگان	صدگان	دهگان	یکان

حروف :

عدد :

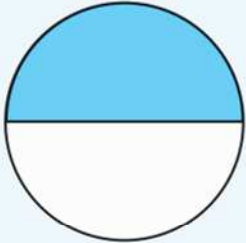
یک عدد چهار رقمی بساز که رقم یکانش ۳، دهگانش ۶، صدگانش ۵ و هزارگانش ۹ باشد.

عدد ۹۹۹ چند تا از ۱۰۰۰ کم تر است؟

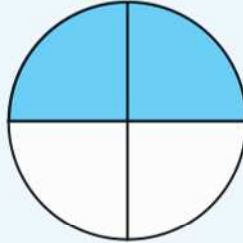


دانش‌آموزان عزیز می‌دانند که :

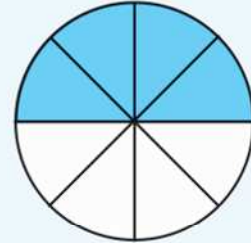
این کسرها با هم مساوی هستند



$$\frac{1}{2}$$



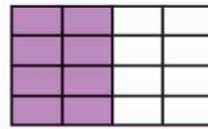
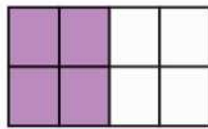
$$\frac{2}{4}$$



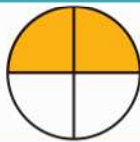
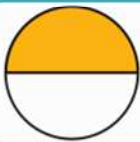
$$\frac{4}{8}$$

حالا توضیح دهید که چرا این کسرها با هم مساوی هستند؟

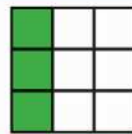
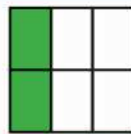

دانش‌آموز عزیز برای هر قسمت از شکل‌ها سه تساوی کسر بنویس.



$$\dots = \dots = \dots$$



$$\dots = \dots = \dots$$




$$\dots = \dots = \dots$$

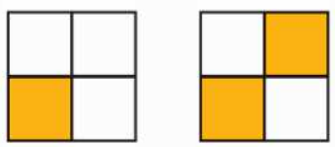
با توجه به شکل‌های زیر، برای هر کدام یک کسر بنویس. اگر گفتی به جای $\frac{4}{4}$ چه عددی می‌توان نوشت؟



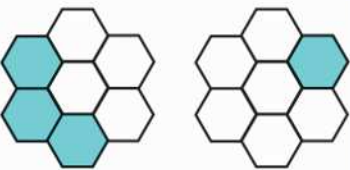
دانش‌آموزان عزیز می‌دانند که :

وقتی مخرج دو کسر مساوی باشد، کسری بزرگ‌تر است که صورت بزرگ‌تر دارد.

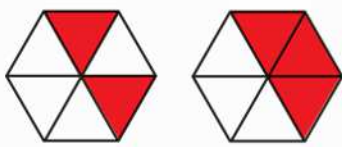
دانش‌آموز عزیز در هر قسمت با توجه به نمونه و شکل‌ها، علامت ($>$ ، $=$ ، $<$) بگذارد. 



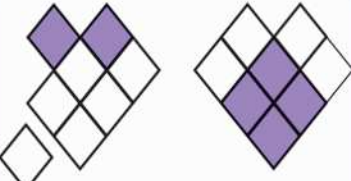
$\frac{1}{4}$ $\frac{2}{4}$



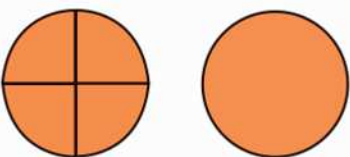
$\frac{3}{7}$ $\frac{1}{7}$



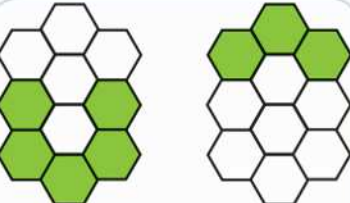
$\frac{2}{6}$ $\frac{3}{6}$



$\frac{2}{8}$ $\frac{4}{8}$




$\frac{4}{4}$ 1



$\frac{5}{10}$ $\frac{3}{10}$



مانند نمونه در جاهای خالی، بین دو کسر علامت ($>$ یا $<$) بگذارد. 

$\frac{2}{5}$ <input type="checkbox"/> $\frac{4}{5}$	$\frac{3}{8}$ <input type="checkbox"/> $\frac{5}{8}$	$\frac{3}{9}$ <input type="checkbox"/> $\frac{2}{9}$
$\frac{6}{12}$ <input type="checkbox"/> $\frac{3}{12}$	$\frac{7}{7}$ <input type="checkbox"/> $\frac{2}{7}$	$\frac{2}{4}$ <input type="checkbox"/> $\frac{1}{4}$



انسان‌های روی زمین ممکن است از نظر ظاهری شبیه به هم باشند؛
اما از نظر **استعداد**، **توانایی‌ها**، **ذوق** و **سلیقه** شبیه به هم نیستند.
چون ممکن است هر کسی دارای یک استعداد یا یک توانایی و یا یک ذوق و سلیقه‌ی خاص باشد.

🌸 دانش‌آموز عزیز به تصویرهای زیر نگاه کن. این کودکان از نظر ظاهری شبیه به هم هستند. همه دارای چشم، دست و پا، دهان و گوش هستند؛ ولی هر کدام دارای یک **علاقه** هستند.



..... 🖍 دانش‌آموز عزیز تو به چه چیزی علاقه داری؟
..... دوست داری در آینده به چه کاری مشغول شوی؟

دانش‌آموز عزیز با توجه به شکل هر قسمت، یک مسأله‌ی ضرب یا تقسیم بنویس و آن را حل کن.



۱-
.....
.....

۲-
.....
.....

۳-
.....
.....

۴- برای تقسیم $(21 \div 7)$ یک مسأله بنویس و آن را حل کن.
.....
.....

۵- برای ضرب (3×8) یک مسأله بنویس و آن را حل کن.
.....
.....

آزمون اجتماعی (شماره ۳)

نیازهای
خانواده

دانش آموز عزیز پاسخ صحیح را با علامت مشخص کن.

۱- اعضای یک خانواده به چه چیزهایی نیاز دارند؟

الف) غذا ب) پوشاک ج) وسایل زندگی د) هر سه مورد

۲- به پولی که افراد از راه کار کردن به دست می آورند چه می گوئیم؟

الف) اسکناس ب) شغل ج) درآمد د) پاداش

۳- زنان روستایی با انجام چه کارهایی به درآمد خانواده کمک می کنند؟

الف) قالی بافی ب) دوشیدن شیر دامها ج) کشاورزی د) هر سه مورد

۴- همه‌ی مردم برای باید کار کنند.

الف) نیازمند بودن ب) تأمین نیازهایشان ج) سرگرمی د) خسته شدن

۵- نخ از چه چیزی به دست می آید؟

الف) از گیاه پنبه ب) پشم گوسفند ج) پوست گاو د) مورد الف و ب

۶- برای کشاورزی به چه نیاز داریم؟

الف) آب ب) خاک ج) نور خورشید د) هر سه مورد

۷- برای پرورش دام، به چه نیاز داریم؟

الف) خاک ب) آب ج) گیاهان د) همه‌ی موارد

۸- دستمال کاغذی، میز و نیمک، کاغذ و وسایل چوبی از چه چیزی به دست می آید؟

الف) گیاهان ب) جانوران ج) فلزات د) خاک

۹- ما از گیاهان چه استفاده‌هایی می کنیم؟

الف) تولید پوشاک نخی ب) تولید غذاهای گیاهی ج) تولید وسایل چوبی د) هر سه مورد

۱۰- بخشی از غذاهای روزانه‌ی ما از راه به دست می آید.

الف) کشاورزی ب) دامپروری ج) آب‌های زیر زمینی د) مورد الف و ب

۱۱- کدام یک از گزینه‌های زیر، از تنه‌ی درختان تهیه می‌شود؟

الف) دستمال کاغذی ب) کاغذ ج) وسایل چوبی د) هر سه مورد

۱۲- کدام یک از این گزینه‌ها، از زیر زمین استخراج می‌شود؟

الف) چوب ب) شیشه ج) آهن و مس د) چرم

۱۳- به نفت، خاک، آب، گیاهان، جانوران و فلزات می‌گوییم.

الف) منابع طبیعی ب) منابع غیر طبیعی ج) معادن د) پالایشگاه

۱۴- از منابع طبیعی چگونه باید استفاده کنیم؟

الف) صرفه‌جویی کنیم ب) درست استفاده کنیم ج) زیاده‌روی کنیم د) مورد الف و ب

۱۵- کدام یک از موارد زیر، از مواد نفتی ساخته شده است؟

الف) لاستیک ب) شیشه ج) آهن د) کاغذ

۱۶- اسراف یعنی چه؟

الف) هدر دادن ب) صرفه‌جویی کردن ج) زیاده‌روی کردن د) مورد الف و ج

شادمان باشی

نقاشی آی نقاشی

